

Школьный этап ВсОШ по Географии (Калининградская область)

7-8 класс

8:00-22:00 16 окт. 2025 г.

Блок с выбором ответов

№ 1 (1 балл)

Прибрежную равнину Южной Америки, вытянувшуюся узкой полосой вдоль океана в зоне тропических пустынь, в Перу называют:

- А) Гилея
- Б) Сельва
- В) Коста**
- Г) Пампа

№ 2 (1 балл)

Назовите течение, являющееся непосредственным продолжением течения Гольфстрим:

- А) Канарское
- Б) Северо-Атлантическое**
- В) Лабрадорское
- Г) Калифорнийское

№ 3 (1 балл)

Какая часть Африки в период работорговли получила печальное название «Невольничий берег»?

- А) побережье Красного моря
- Б) побережье Гвинейского залива**
- В) побережье Средиземного моря
- Г) побережье в районе Мозамбикского пролива

№ 4 (1 балл)

Государственными языками в Канаде являются:

- А) испанский, английский
- Б) французский, английский**
- В) французский, итальянский
- Г) португальский, испанский

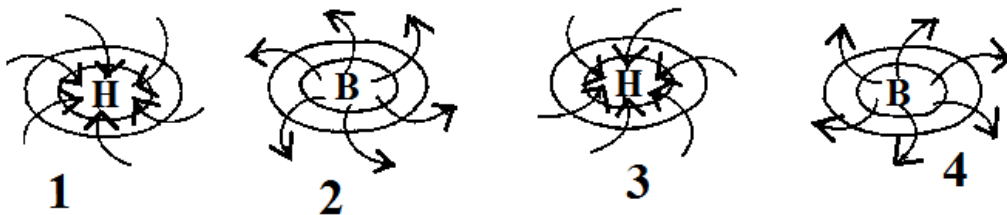
№ 5 (1 балл)

Назовите море, на побережье которого находится крайняя западная точка России:

- А) Северное
- Б) Белое
- В) Балтийское**
- Г) Берингово

№ 6 (1 балл)

Схема направления движения воздуха в антициклоне в Северном полушарии отмечена правильно на рисунке номер:



- А) рисунок № 1
- Б) рисунок № 2
- В) рисунок № 3
- Г) рисунок № 4

№ 7 (1 балл)

Межень соответствует периоду:

- А) наименьшего выпадения осадков
- Б) выпадения осенних дождей
- В) активного таяния ледников
- Г) таяния снегов

№ 8 (1 балл)

Котловина какого озера имеет ледниковое происхождение:

- А) Байкал
- Б) Эльтон
- В) Ладожское
- Г) Кулундинское

№ 9 (1 балл)

Земля, вращаясь вокруг своей оси за какое время совершает оборот на 30°:

- А) за 10 минут
- Б) за 120 минут
- В) за 60 минут
- Г) за 1440 минут

№ 10 (1 балл)

Отметьте формы рельефа, которые образуются в результате действия эндогенных сил:

- А) озы, камы, зандровые равнины
- Б) холмы, долины, овраги
- В) горсты, грабены, горные системы
- Г) осыпи, барханы, каньоны

Сопоставление

№1 10 баллов (правильное определение лишнего элемента – 1 балл, Верное определение принципа объединения трех других – 1 балл)

Географический детектив: найдите лишнее звено!

В каждой из пяти цепочек три элемента объединены одним четким географическим признаком (принципом), а один элемент является лишним. Определить лишний элемент в каждой цепочке и объясните принцип, по которому объединены три других.

Цепочка 1 «Горные системы»	<i>Анды – Гималаи – Уральские горы – Атлас</i>
	Лишний элемент: Уральские горы
	Принцип объединения: Молодые складчатые горы, образовавшиеся в альпийскую эпоху горообразования (кайнозойская эра)
Цепочка 2 «Течения Мирового океана»	<i>Гольфстрим – Куроисио – Перуанское – Бразильское</i>
	Лишний элемент: Перуанское течение
	Принцип объединения: Теплые течения
Цепочка 3 «Столицы государств»	<i>Оттава – Канберра – Монтевидео - Вашингтон</i>
	Лишний элемент: Монтевидео
	Принцип объединения: Столицы, которые не являются крупнейшими по населению городами своей страны
Цепочка 4 «Изолинии»	<i>Изобара – Изогизета – Изобата – Изотерма</i>
	Лишний элемент: Изобата
	Принцип объединения: изолинии атмосферных явлений
Цепочка 5 «Полезные ископаемые»	<i>Нефть – Апатиты – Природный газ – Каменный уголь</i>
	Лишний элемент: Апатиты
	Принцип объединения: Горючие полезные ископаемые (топливные ресурсы)

№ 2 (15 баллов)

Географический детектив: определи страну, используя сведения, приведенные в тексте, определите, о какой стране идет речь.

«Эта страна расположена в двух частях света. Её территория омывается четырьмя морями, принадлежащими бассейну второго по величине океана. Столица не является крупнейшим городом страны. Через её территорию протекают две великие реки, которые являются колыбелями древних цивилизаций. Большая часть территории страны имеет засушливый (аридный) климат.»

Название страны: (5 баллов)	Турция
Какие две реки и какие две части света имеются в виду? (4 балла)	Реки: Тигр и Евфрат Части света: Европа и Азия

Какой город считается столицей страны? (2 балла)	Анкара
Как называется полуостров на территории которого располагается страна. (4 балла)	Анатолийский полуостров (Малая Азия)

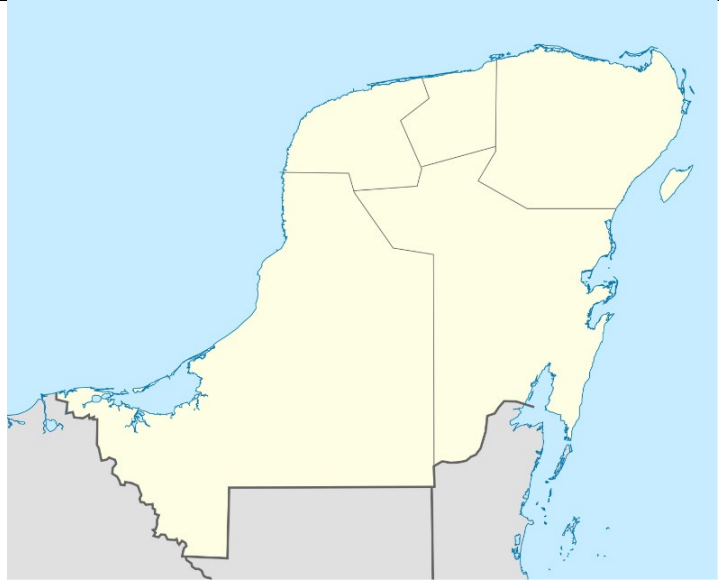

№ 3 6 баллов (правильное определение природной зоны – 2 балл)

Узнай природную зону! Определите по описанию, о какой природной зоне идет речь.

Описание	Природная зона
<p>№1</p> <p>Климат: Резко континентальный. Зима очень холодная и малоснежная, лето короткое, но тёплое.</p> <p>Почвы: Мерзлотно-таёжные и подзолистые.</p> <p>Растительность: Преобладают хвойные деревья (лиственница, сосна, кедр), так как они выдерживают морозы. Много болот.</p> <p>Животный мир: Бурый медведь, лось, соболь, рысь, глухарь, россомаха.</p>	<p>✓ Тайга</p>
<p>№2</p> <p>Климат: Субтропический средиземноморский. Лето жаркое и сухое, зима мягкая и дождливая.</p> <p>Почвы: Коричневые.</p> <p>Растительность: Вечнозелёные жестколистные кустарники (маквис), дубы (пробковый и каменный), дикие маслины, лавр, ароматические травы (тимьян, розмарин).</p> <p>Животный мир: Муфлон, генетта, хищные птицы, много пресмыкающихся.</p>	<p>✓ Зона жестколистных вечнозеленых лесов и кустарников (Средиземноморская)</p>
<p>№3</p> <p>Климат: Резко континентальный, с большими перепадами температур (жаркое лето, холодная зима). Осадков крайне мало.</p> <p>Почвы: Бурые, серозёмы, солончаки</p> <p>Растительность: эфемеры, полынь, саксаул, осока.</p> <p>Животный мир: джейран, тушканчик, ящерицы, корсак, песчанка.</p>	<p>✓ Полупустыни и пустыни</p>

№ 4 12 баллов (за верное определение полуострова по контурам – 2 балла)

Определите, контуры каких полуостровов изображены на рисунках и напишите их названия

Контуры полуострова	Название полуострова
 A map of the Crimean Peninsula, showing its characteristic shape with a large central landmass and a smaller eastern tip (the Taman Peninsula). The land is colored yellow, and the surrounding water is blue.	✓ Крым
 A map of the Yucatan Peninsula in Central America, showing its rectangular shape and the Gulf of Mexico to the east. The land is colored yellow, and the surrounding water is blue.	✓ Юкатан
 A map of the Alaskan Peninsula in North America, showing its complex shape with many fjords and inlets. The land is colored yellow, and the surrounding water is blue.	✓ Аляска

Контуры полуострова	Название полуострова
	<p>✓ Ютландия</p>
	<p>✓ Аравийский</p>
	<p>✓ Апеннинский</p>

№ 5 26 баллов (по 1 баллу за каждое верное сопоставление)

Сгруппируйте географические объекты по смыслу и материкам: Каир, Колорадо, Лима, Намиб, Гибсона, Лимпопо, Аконкагуа, Тапажос, Балатон, Виннипег, Оттава, Капские, Енисей, Муррей, Гоби, Каскадные, Танганьика, Пекин, Винсон, Эйр, Атакама, Косцюшко, Долина Смерти, Мельбурн, Альпы, Маракайбо.

Континент	Город	Река	Озеро	Пустыня	Гора (-ы)
Евразия	✓ <i>Пекин</i>	✓ <i>Енисей</i>	✓ <i>Балатон</i>	✓ <i>Гоби</i>	✓ <i>Альпы</i>
Северная Америка	✓ <i>Оттава</i>	✓ <i>Колорадо</i>	✓ <i>Виннипег</i>	✓ <i>Долина Смерти</i>	✓ <i>Каскадные</i>
Южная Америка	✓ <i>Лима</i>	✓ <i>Тапажос</i>	✓ <i>Маракайбо</i>	✓ <i>Атакама</i>	✓ <i>Аконкагуа</i>
Африка	✓ <i>Каир</i>	✓ <i>Лимпопо</i>	✓ <i>Танганьика</i>	✓ <i>Намиб</i>	✓ <i>Капские</i>
Австралия	✓ <i>Мельбурн</i>	✓ <i>Муррей</i>	✓ <i>Эйр</i>	✓ <i>Гибсона</i>	✓ <i>Косцюшко</i>
Антарктида					✓ <i>Винсон</i>